

2 શિશુવર્ગ

૧. ભાષા

મૂલ્યાંકન - દ્વિતીય સત્રના પ્રશ્નપત્રનું પરિરૂપ

સમય : ૨ કલાક]

[કુલ ગુણ : ૪૦

૧. (અ) સરખા મૂળાક્ષરોની જોડી બનાવો : (ત્રણ જોડી) ૩
(બ) ચિત્રનાં નામ પરથી શરૂ થતા મૂળાક્ષરને ચિત્ર સાથે જોડો :
(ત્રણ જોડ) ૩
(ક) ચિત્ર અને એના પ્રથમ મૂળાક્ષરને થી જોડો :
(બે ચિત્રો) ૨
(ડ) ચિત્ર જુઓ અને સાચા શબ્દ સાથે જોડો : (બે જોડી) ૨
૨. (અ) સૂચના મુજબ કરો : (એક પ્રશ્ન) ૪
(બ) સૂચના મુજબ કરો : (એક પ્રશ્ન) ૬
૩. (અ) માં લખેલા મૂળાક્ષર જેવો મૂળાક્ષર શોધી તેના ફરતે
કરો : (ત્રણ મૂળાક્ષરો) ૩
(બ) હરોળમાં જુદા મૂળાક્ષર ઉપર X કરો : (ત્રણ હરોળ) ૩
(ક) આગળનો મૂળાક્ષર લખો : (બે મૂળાક્ષરો) ૨
(ડ) પાછળનો મૂળાક્ષર લખો : (બે મૂળાક્ષરો) ૨
૪. (અ) માં લખેલા મૂળાક્ષર જેવો મૂળાક્ષર શોધી તેની નીચે લીટી
દોરો : (ત્રણ મૂળાક્ષરો) ૩
(બ) સૂચના મુજબ કરો : (એક પ્રશ્ન) ૩
(ક) ખૂટતા મૂળાક્ષરો લખો : (બે મૂળાક્ષરો) ૨
(ડ) ચિત્ર જોઈ કૌંસમાંથી મૂળાક્ષર પસંદ કરી લખો : (બે ચિત્રો) ૨

અસાઈનમેન્ટ

2

[અભ્યાસક્રમ : નવેમ્બરથી એપ્રિલ સુધી]

૧. (અ) સરખા મૂળાક્ષરોની જોડી બનાવો : (ત્રણ જોડી)

૩

ર	ય	મ	ન
મ	ન	ર	ય

લ	વ	બ	ફ
વ	લ	ફ	બ



૩ શિષ્યુવર્ગ

૨. ગણિત

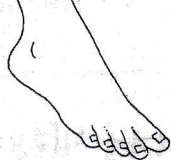







મૂલ્યાંકન - દ્વિતીય સત્રના પ્રશ્નપત્રનું પરિરૂપ

સમય : ૨ કલાક]

[કુલ ગુણ : ૪૦

૧. (અ) ચિત્ર / મણકા ગણો અને સાચા અંક સાથે જોડો :
(ત્રણ જોડ) ૩
- (બ) ચિત્ર / મણકા ગણો અને સાચા અંક ફરતે કરો :
(ત્રણ પ્રશ્નો) ૩
- (ક) માં આપેલ અંક જેવા અંક શોધી જોડો :
(ચાર અંકો) ૪
૨. (અ) તરત પછીની સંખ્યા લખો : (પાંચ સંખ્યાઓ) ૫
(બ) તરત પહેલાંની સંખ્યા લખો : (પાંચ સંખ્યાઓ) ૫
૩. (અ) વચ્ચેની સંખ્યા લખો : (પાંચ સંખ્યાઓ) ૫
(બ) મણકા ગણો અને માં અંક લખો : (પાંચ પ્રશ્નો) ૫
૪. (અ) ખૂટતા અંક લખો : (ચાર અંકો) ૨
(બ) ઊંઘા અંક લખો : (આઠ અંકો) ૪
(ક) કમમાં અંક લખો : (આઠ અંકો) ૪

14

	<p>.....ગ (જ, ય)</p>
	<p>ફ..... (બ, ડા)</p>
	<p>.....સ (બ, લ)</p>
	<p>.....રણ (ફ, હ)</p>
	<p>શર.....ત (હ, બ)</p>
	<p>ય..... (જ, ક્ષ)</p>
	<p>.....ખ (ન, મ)</p>
	<p>.....તક (ય, બ)</p>



૪. અંગ્રેજી

5 શિક્ષણ

મૂલ્યાંકન - દ્વિતીય સત્રના પ્રશ્નપત્રનું પરિરૂપ

સમય : ૨ કલાક]

[કુલ ગુણ : ૪૦

૧. (અ) સરખા મૂળાક્ષરો જોડો : (પાંચ જોડ) ૫
(બ) સરખા નંબર (અંક) જોડો : (પાંચ જોડ) ૫
૨. (અ) હરોળમાં સાચા મૂળાક્ષર ફરતે ○ કરો : (બે હરોળ) ૨
(બ) □ માં આપેલ મૂળાક્ષર શોધો અને તેના ફરતે ○ કરો :
(ત્રણ મૂળાક્ષરો) ૩
(ક) □ માં આપેલ નંબર (અંક) શોધો અને તેના ફરતે ○ કરો :
(ત્રણ નંબર) ૩
(ડ) ખૂટતા મૂળાક્ષરો લખો : (બે મૂળાક્ષરો) ૨
૩. (અ) ખૂટતા નંબર (અંક) લખો : (બે નંબર) ૨
(બ) હરોળમાં જુદા મૂળાક્ષર પર X કરો : (ત્રણ હરોળ) ૩
(ક) હરોળમાં જુદા નંબર (અંક) પર X કરો : (ત્રણ હરોળ) ૩
(ડ) ચિત્ર ઓળખી □ માં તેનો પહેલો મૂળાક્ષર લખો :
(બે ચિત્રો) ૨
૪. (અ) ચિત્ર ઓળખી તેના પહેલા મૂળાક્ષર સાથે જોડો :
(ચાર જોડ) ૪
(બ) ગણો અને સાચા નંબર (અંક) ફરતે ○ કરો : (ત્રણ પ્રશ્નો) ૩
(ક) ગણો અને □ માં નંબર (અંક) લખો : (ત્રણ પ્રશ્નો) ૩

અસાઈનમેન્ટ

6

[અભ્યાસક્રમ : નવેમ્બરથી એપ્રિલ સુધી]

૧. (અ) સરખા મૂળાક્ષરો જોડો : (પાંચ જોડ)

૫

M	L	Y	O	U
L	M	U	Y	O

P	W	Z	T	N
W	T	N	P	Z

X	V	R	S	Q
R	X	V	Q	S



૩. સામાન્ય જ્ઞાન

વિશ્વકર્મા

મૂલ્યાંકન - દ્વિતીય સત્રના પ્રશ્નપત્રનું પરિરૂપ

સમય : ૨ કલાક]

[કુલ ગુણ : ૪૦



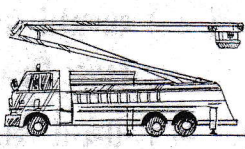





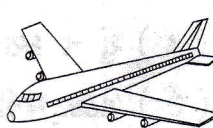
૧. (અ) જમીન પર ચાલતાં વાહનો પાસે કરો :
(પાંચ ચિત્રો) ૩
- (બ) પ્રાણીઓ સાથે જોડાતાં વાહનો પાસે કરો :
(બે ચિત્રો) ૧
- (ક) સારી ટેવો નીચે કરો : (પાંચ ચિત્રો) ૩
- (ડ) શાળામાં ઉપયોગમાં આવતી વસ્તુઓ ફરતે કરો :
(પાંચ ચિત્રો) ૩
૨. (અ) નીચેનાં સાધનોને તેનો ઉપયોગ કરનાર વ્યક્તિઓ સાથે જોડો : (ચાર જોડ) ૪
- (બ) દરેક પોશાકને તેના પહેરનાર સાથે જોડો : (ચાર જોડ) ૪
- (ક) દરેકને તેના સાથી પાત્ર સાથે જોડો : (બે જોડ) ૨
૩. (અ) શિયાળામાં વપરાતી વસ્તુઓ ફરતે કરો :
(ત્રણ ચિત્રો) ૨
- (બ) શિયાળામાં આવતા તહેવારો પાસે કરો : (બે ચિત્રો) ૧
- (ક) ઉનાળામાં વપરાતી વસ્તુઓ ફરતે કરો :
(પાંચ ચિત્રો) ૩
- (ડ) શું ન કરાય? તેના ઉપર x કરો : (ત્રણ ચિત્રો) ૨
- (ઈ) બેઠકરૂમની વસ્તુઓ પાસે કરો : (ત્રણ ચિત્રો) ૨
૪. (અ) રસોડાની વસ્તુઓ પાસે કરો : (ત્રણ ચિત્રો) ૨
- (બ) સૂવાના રૂમની વસ્તુઓ પાસે કરો : (ત્રણ ચિત્રો) ૨

- (ક) બાથરૂમની વસ્તુઓ પાસે કરો : (ત્રણ ચિત્રો) ૨
- (ડ) વીજળીથી ચાલતાં સાધનો પાસે કરો : (છ ચિત્રો) ૪

અસાઈનમેન્ટ

[અભ્યાસક્રમ : નવેમ્બરથી એપ્રિલ સુધી]

૧. (અ) જમીન પર ચાલતાં વાહનો પાસે કરો :
(પાંચ ચિત્રો) ૩

		
<input checked="" type="checkbox"/>	<input type="checkbox"/>	<input type="checkbox"/>
		
<input type="checkbox"/>	<input type="checkbox"/>	<input type="checkbox"/>
		
<input type="checkbox"/>	<input type="checkbox"/>	<input type="checkbox"/>